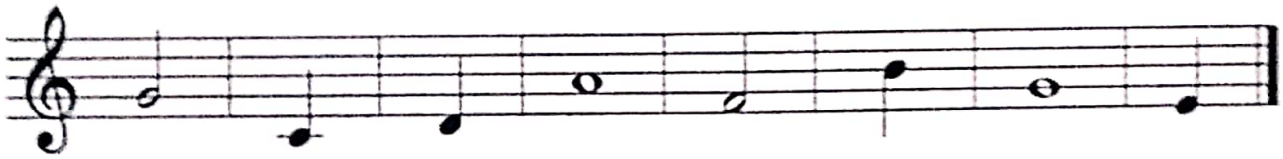


1. / 1.5.

Pracovní list č. 13




Spoj čiarou noty a ich názvy.




d ¹	g ¹	h ¹	c ¹	a ¹	e ¹	f ¹	g ¹
štvrtová	polová	štvrtová	štvrtová	celá	štvrtová	polová	celá



Napiš noty, vyberaj z týchto možností: c¹, d¹, e¹, f¹, g¹, a¹, h¹, c².



c ¹	d ¹	e ¹	f ¹	g ¹	a ¹	h ¹	c ²
----------------	----------------	----------------	----------------	----------------	----------------	----------------	----------------



e ¹	a ¹	f ¹	c ²	d ¹	c ¹	g ¹	h ¹
----------------	----------------	----------------	----------------	----------------	----------------	----------------	----------------



Budeš počuť šesť rôznych tónov. Napiš, či je vysoký alebo hlboký.

- | | | |
|----------|----------|----------|
| 1. _____ | 2. _____ | 3. _____ |
| 4. _____ | 5. _____ | 6. _____ |