






Noty - kvíz č. 10


1. Táto nota sa volá 


 a) fis² štvrťová
 b) f² štvrťová
 c) fis² polová
2. Táto nota sa volá 


 a) as¹ polová
 b) a¹ celá
 c) as¹ celá
3. Táto nota sa volá 


 a) dis¹ polová
 b) dis¹ štvrťová
 c) dis² štvrťová
4. Táto nota sa volá 


 a) ges² polová
 b) g² polová
 c) g¹ polová
5. Táto nota sa volá 

 a) cis² polová
 b) ces¹ celá
 c) cis² celá
6. Táto nota sa volá 

 a) h² celá
 b) hes² celá
 c) h¹ celá
7. Táto nota sa volá 


 a) a¹ polová
 b) ais¹ celá
 c) ais¹ polová
8. Táto nota sa volá 


 a) des¹ celá
 b) des² celá
 c) des² polová
9. Táto nota sa volá 


 a) as¹ štvrťová
 b) a¹ štvrťová
 c) a² polová
10. Táto nota sa volá 


 a) f¹ polová
 b) fis¹ celá
 c) f² polová


Noty - kvíz č. 10


1. Táto nota sa volá 


 a) fis² štvrťová
 b) f² štvrťová
 c) fis² polová
2. Táto nota sa volá 


 a) as¹ polová
 b) a¹ celá
 c) as¹ celá
3. Táto nota sa volá 


 a) dis¹ polová
 b) dis¹ štvrťová
 c) dis² štvrťová
4. Táto nota sa volá 


 a) ges² polová
 b) g² polová
 c) g¹ polová
5. Táto nota sa volá 

 a) cis² polová
 b) ces¹ celá
 c) cis² celá
6. Táto nota sa volá 

 a) h² celá
 b) hes² celá
 c) h¹ celá
7. Táto nota sa volá 

 a) a¹ polová
 b) ais¹ celá
 c) ais¹ polová
8. Táto nota sa volá 

 a) des¹ celá
 b) des² celá
 c) des² polová
9. Táto nota sa volá 

 a) as¹ štvrťová
 b) a¹ štvrťová
 c) a² polová
10. Táto nota sa volá 

 a) f¹ polová
 b) fis¹ celá
 c) f² polová