

3. n. / 1. č.

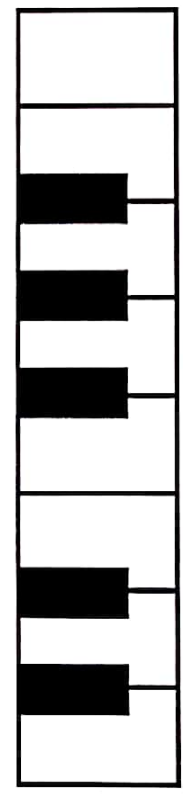
Pracovný list č. 24

Meno: _____

1. Poltón - celý tón

Najmenšia vzdialenosť medzi dvoma tónmi je poltón.


CIS DIS FIS GIS AIS



C D E F G A H C

Poltón tvoria napríklad tóny: E-F, H-C, CIS-D a pod. Celé tóny sú napríklad: C-D, D-E a pod.

Označ svorkou dvojice tónov, ktoré tvoria poltóny.

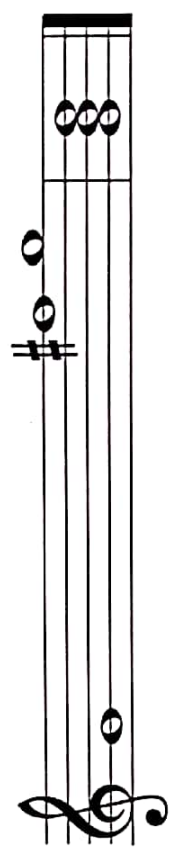


2. Stupnica G dur, poltóny, akord

Durová stupnica má poltóny medzi tretím a _____ stupňom a medzi siedmym a _____ stupňom.

Akord tvoria prvý, _____ a _____ stupeň stupnice.

Dopíš chýbajúce tóny v stupnici G dur. Označ dva poltóny. Zakrúžkuj v tejto stupnici prvý, tretí a piaty tón (stupeň) a akord, ktorý je napísaný za stupnicou.



Tonický kvintakord v G dur tvoria tri tóny: G, _____, _____.

3. Takt trojštvrťový

Vytleskaj rytmické cvičenie.

