


Pracovný list č. 5

Meno: _____

1. Noty

Napiš polové noty.



c¹ d¹ e¹ f¹ g¹ a¹ h¹

Zakrúžkuj noty, ktoré sú správne.




d¹ a¹ f¹ c¹ a¹ h¹ g¹
 polová celá celá štvrtová celá polová celá

Opíš huslový kľúč.



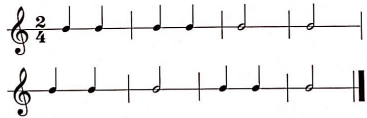
2. Pomlčka štvrtová, polová a celá

Doplň názvy pomlčiek: *1 KRÁT OPÍŠ POMLČKU ↓*



3. Takt dvojštvrtový

Vytlieskaj rytmické cvičenie. Počítaj nahlas (pr-vá dru-há).



4. Dynamické znamienka

Dynamika je striedanie tónov rôznej sily v hudobnom diele.

- p* - piano - slabo
- mf* - mezzoforte - stredne silno
- f* - forte - silno