



5. Zakrúžkujte názvy nôt v príslušnej oktáve.

a) jednočiarková oktáva:	c	f ¹	ges	E ₁	g ¹
b) malá oktáva:	g	Gis	cis	A ₁	es
c) dvojčiarková oktáva:	A ₂	g ²	des	as ²	e
d) kontra oktáva:	D ₂	Gis	H ₁	h ₁	Es ₁
e) veľká oktáva:	F	d	Es	C ₁	gis


6. Napíšte názvy uvedených tónov od najnižšieho po najvyšší.

f² c es¹ e H Des fes² h G₁ fis³ d⁴ as⁴ g¹ cis

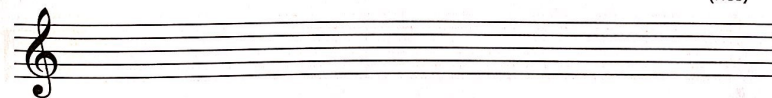
7. Doplňte názvy nôt.



8. Názvy tónov zapíšte v polových rytmických hodnotách.



as fis² ges¹ ces³ g³ es² ais¹ h fes² dis³ b
(hes)



eis¹ ais his¹ a² des² fis³ h² cis¹ a¹ dis² ges