

# Pracovný list č. 26

Meno: \_\_\_\_\_

## 1. Noty

Zakružuj noty, ktoré sú správné.




dis<sup>1</sup>   dis<sup>1</sup>   gis<sup>2</sup>   hes<sup>1</sup>   fis<sup>1</sup>   as<sup>1</sup>  
 celá   štvrtová   celá   polová   štvrtová   celá

Preciňaj noty.



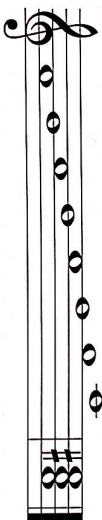
Napiš šesť rôznych notí a pomenuj ich.



4. n. / 16.

## 2. Stupnica A dur, poltóny, akord

Dopíš krížiky v stupnici A dur. Označ dva poltóny. Zakružuj v tejto stupnici prvý, tretí a piaty tón (stupenň) a akord, ktorý je napísaný za stupnicou.

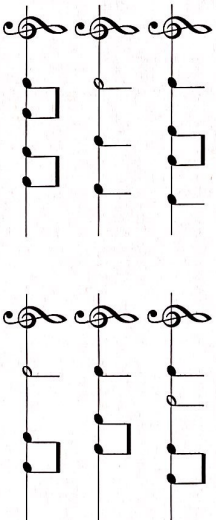


Tonický kvintakord v A dur tvoria tri tóny: A, \_\_\_\_\_, \_\_\_\_\_.

## 3. Takt dvojštvrtový, trojštvrtový a štvorštvrtový

Dopíš označenie taktu, vyberaj z týchto možností:

2 3 4  
4 4 4



Ktorá nota sa počíta na pol doby? \_\_\_\_\_